

二〇二〇年军队院校生长军(警)官招生文化科目统一考试

大专毕业生士兵专升本军政基础综合试题

考生须知

1. 本试卷分军事知识、政治理论知识两部分,考试时间 150 分钟,满分为 200 分(军事知识 120 分,政治理论知识 80 分)。
2. 将部别、姓名、考生号分别填涂在试卷及答题卡上。
3. 所有答案均须填涂在答题卡上,填涂在试卷上的答案一律无效。
4. 考试结束后,试卷及答题卡全部上交并分别封存。

第一部分 军事知识

一、单项选择题(每小题 2 分,共 80 分)

1. “故上兵伐谋,其次伐交,其次伐兵,其下攻城。攻城之法,为不得已。”出自下列哪一部兵书?
A. 《孙子兵法》 B. 《六韬》 C. 《吴子》 D. 《三略》
2. 《孙子兵法》中的“五事”是指____。
A. 道、天、地、将、法 B. 道、天、地、智、勇
C. 道、天、地、智、严 D. 道、天、地、仁、信
3. 下列人物中,曾被恩格斯称赞为描写拿破仑战争“最好的著作家”的是____。
A. 马汉 B. 若米尼 C. 克劳塞维茨 D. 杜黑
4. 战国时期,为增强军事实力,推行“胡服骑射”军事改革的是____。
A. 赵国 B. 秦国 C. 楚国 D. 齐国
5. 下列关于《战争论》的说法中,不正确的是____。
A. 既是一部军事理论著作,又是一部哲学著作
B. 是西方古代军事理论的顶峰之作
C. 是马克思主义军事理论的来源之一
D. 该书重点总结了拿破仑时期历次战争的经验
6. “政治是不流血的战争,战争是流血的政治”形象地说明了以下哪种关系?____
A. 战争与经济 B. 战争与政治
C. 战争与流血 D. 政治与经济



微信公众号



扫码购买官方教材

7. 确立毛泽东思想为中国共产党的指导思想并写入党章, 是中共_____的一个重大历史性贡献。
- A. 六大 B. 七大 C. 八大 D. 九大
8. 下列人物中, 不属于中国古代军事家的是_____。
- A. 孙武 B. 孙臆 C. 黄石公 D. 蒋百里
9. 杜鲁门政府时期, 美国奉行的军事战略是_____。
- A. 遏制战略 B. 两个有效战略 C. 大规模报复战略 D. 灵活反应战略
10. 下列著作中, _____是“一本阐述未来战争与反战争的书”, 该书从新的视角预测并阐述了未来战争与和平的许多问题。
- A. 《大战略》 B. 《未来的战争》 C. 《战略论》 D. 《总体战》
11. 下列哪一次战争奠定了三国鼎立之势? _____
- A. 长平之战 B. 赤壁之战 C. 官渡之战 D. 淝水之战
12. “士别三日, 即更刮目相待”源于三国时期_____通过不断学习, 取得很大进步而受到_____赞赏的故事。
- A. 吕蒙 孙权 B. 周瑜 刘备 C. 鲁肃 孙权 D. 陆逊 孙权
13. 在公元前 119 年的汉匈漠北之战中, 汉军分两路远程奔袭并击败匈奴主力, 此次作战两路汉军的主将分别是_____和_____。
- A. 卫青 霍去病 B. 卫青 李广 C. 李陵 霍去病 D. 卫青 霍光
14. 中国共产党历史上第一次独立自主地运用马克思主义的基本原理, 解决中国革命和革命战争重大问题, 标志着中国共产党在政治上成熟的会议是_____。
- A. 黎平会议 B. 遵义会议 C. 俄界会议 D. 扎西会议
15. 下列战争中的哪一场战争是冷战结束后爆发的第一场大规模局部战争? _____
- A. 阿富汗战争 B. 伊拉克战争 C. 科索沃战争 D. 海湾战争
16. 解放战争中, 我军进行了许多大规模的战役。其中, 辽沈战役歼灭的是_____。
- A. 卫立煌集团 B. 汤恩伯集团 C. 刘峙集团 D. 傅作义集团
17. 下列选项中, 明确将日本侵占中国的东北、台湾、澎湖列岛等归还中国的是_____。
- A. 《慕尼黑协定》 B. 《雅尔塔协定》 C. 《开罗宣言》 D. 《波茨坦公告》
18. 1941 年 12 月 7 日 (夏威夷时间), 日军偷袭美国珍珠港海军基地, 同时进攻东南亚, _____由此爆发。
- A. 太平洋战争 B. 第二次世界大战 C. 反法西斯战争 D. 大西洋战争
19. 1953 年 7 月, “联合国军”总司令_____上将代表美方在朝鲜停战协定及其附件上签字, 朝鲜停战实现。
- A. 麦克阿瑟 B. 克拉克 C. 李奇微 D. 尼米兹



微信公众号



扫码购买官方教材

20. 进入新时代,中国全面深化国防和军队改革,在全军主要作战部队实行“_____”体制,充实兵种作战力量,减少指挥层级,降低合成重心。

- A. 军—旅—营 B. 军—师—团—营 C. 军—旅—团 D. 军—旅—营—连

21. 下列典型联合作战样式中,属于联合防御作战样式的是_____。

- A. 联合火力打击 B. 联合封锁作战 C. 联合防空作战 D. 联合登陆作战

22. 下列高技术中,对提高武器装备突防能力具有直接意义的是_____。

- A. 精确制导技术 B. 现代隐身技术 C. 智能控制技术 D. 惯性制导技术

23. 超高音速武器是目前世界各军事强国竞相发展的高技术武器装备。所谓超高音速武器,通常指飞行速度达_____倍音速以上的武器。

- A. 2 B. 3 C. 4 D. 5

24. 下列选项中,不是地图比例尺表示形式的是_____。

- A. 数字式 B. 符号式 C. 文字式 D. 图解式

25. 第二次世界大战期间,美国在日本哪两个城市投掷了原子弹?_____

- A. 广岛和东京 B. 东京和长崎 C. 长崎和广岛 D. 大阪和长崎

26. 各国从国家战略利益出发,力图保持对军事高技术的严格控制,决不会像民用高技术那样为了获取利润而轻易转让。这句话体现了军事高技术的_____突出特征。

- A. 高度的保密性 B. 效果的突出性 C. 发展的超前性 D. 高度的风险性

27. 美国是当今世界唯一的超级大国,素以“世界警察”自居,为管辖全球并能够在全球各地迅速投入军力参战,现将全球划分为_____大战区。

- A. 5 B. 6 C. 7 D. 9

28. 下列国家中,属于“五眼联盟”的是_____。

- A. 法国 B. 日本 C. 印度 D. 以色列

29. 抗美援朝战争初期,担任中国人民志愿军副司令员兼副政治委员的是_____。

- A. 洪学智 B. 韩先楚 C. 李达 D. 邓华

30. 下列选项中,不属于信息化战争“软打击”手段的是_____。

- A. 斩首行动 B. 网络攻击 C. 心理攻击 D. 电子干扰

31. 下列战争,按爆发时间先后顺序排列正确的是_____。

- A. 马岛战争 海湾战争 科索沃战争 阿富汗战争
B. 海湾战争 马岛战争 阿富汗战争 科索沃战争
C. 阿富汗战争 科索沃战争 马岛战争 海湾战争
D. 科索沃战争 马岛战争 海湾战争 阿富汗战争



32. 目前,我国近地轨道运载能力最大的火箭是_____,其近地轨道运载能力大于22吨。
A. 长征五号 B. 长征三号甲 C. 神州七号 D. 银河五号
33. 2019年10月26日,美陆军“三角洲”特种部队对“伊斯兰国”头目_____实施了斩首行动。
A. 巴格达迪 B. 本·拉登 C. 扎维 D. 朱加菲
34. 2019年12月20日,特朗普签署《2020财年国防授权法案》,正式开始创建美国第六大军种。该军种是_____。
A. 火箭军 B. 网军 C. 空天军 D. 太空军
35. 《中国人民解放军队列条令(试行)》(2018版)对列队的间距进行了规定,队列人员之间的间隔(两肘之间)通常约_____厘米,距离(前一名脚跟至后一名脚尖)约_____厘米;需要时,可以调整队列人员之间的间隔和距离。
A. 15 75 B. 15 80 C. 10 80 D. 10 75
36. 《中国人民解放军军事体育训练大纲》(2020版)规定,个人通用训练课目成绩按分数评定,设及格分数下限,分别为:三类人员_____分,二类人员_____分、一类人员_____分,成绩以各课目得分之和评定。
A. 50 55 60 B. 55 60 65 C. 60 65 70 D. 65 70 75
37. 止血是一种医疗技术,有许多简便的方法。下列选项中不属于正确止血方法的是_____。
A. 加压包扎止血法 B. 指压止血法
C. 止血带止血法 D. 心外按压止血法
38. 联勤保障部队在中央军委统一指挥领导下,实行联勤保障基地、_____两级指挥体制。
A. 应急保障中心 B. 联勤保障中心 C. 应急保障基地 D. 联勤保障分部
39. 2020年新冠疫情爆发后,美海军_____航母舰长克罗斯被解职。
A. “里根”号 B. “罗斯福”号 C. “小鹰”号 D. “华盛顿”号
40. 《军队基层建设纲要》(2020版)对基层自主建设的基本要求进行了明确。下列选项中,不属于基层自主建设基本要求的是_____。
A. 突出主责主业 B. 践行群众路线 C. 加强科学统筹 D. 搞好顶层设计



微信公众号



扫码购买官方教材

二、材料分析题（仔细阅读给定材料，按要求作答。要求：归纳、分析准确，语言流畅。每小题20分，共40分）

给定材料一：

当前，为解决基层思想政治教育吸引力不足、效果不理想的问题，各级想了很多办法。其中，“微教育”就是一种颇具时代感的新颖教育模式。

与传统大课堂教育模式相比，“微教育”体现的是“短、平、快”，突出的是“新、实、活”，注重的是“真、深、广”。但它最突出的一个特点是紧跟时代发展、紧贴部队实际、紧盯官兵思想需求。

客观地讲，“微教育”不仅占用时间短、所需场地小，而且内容更丰富、方法更灵活，更容易被官兵所接受。但为何同样的“微教育”，有的单位成效明显，而有的单位效果就不佳呢？说到底，问题还是出在施教者身上。正所谓“教育不走心、官兵心就走”，只有施教用心，才能教育走心。

回顾一些单位开展“微教育”的经历可以看到，启动“微教育”只是搭建起了平台。而要提升“微教育”的效果，就必须顺应内在规律，呼应时代需求，才能真正抢占思想教育新阵地；就必须找准让官兵兴趣爆燃的“燃点”，才能使“微教育”富有吸引力和感染力。

官兵是教育的主体，他们参与教育、接受教育的积极程度，直接决定着教育的质。在“微教育”中，走进并了解官兵的喜好、烦恼、困难与诉求，善于以兵言兵语讲理论，用身边事说道理，才能把官兵参与的积极性调动起来。

事实上，正因为“微”，才更要求“浓缩的必须是精华”，要求施教者必须找准最适合的切入点，这样才能“以小博大”，找到“大道理”与“小平台”之间的最佳结合点，引起官兵的共鸣。

正所谓功夫到家，教育到心。当前，施教者要做的功课还很多。比如，及时从官兵的日常事、盘中餐、身上衣中捕捉“微信号”。又如，坚持向中心工作聚焦、向重大任务延伸、向日常生活渗透等等。只有下足功夫，才能让“微教育”有的放矢、小中见大、发挥实效，从而让时代“主旋律”、社会“正能量”和军营“好声音”真正占据官兵的思想阵地。

根据以上材料，回答下列问题：

- （1）分析“微教育”的主要特点；
- （2）你认为施教者应抓住哪些主要环节才能真正发挥“微教育”的作用。



微信公众号



扫码购买官方教材

给定材料二：

小姜来自城镇，在家是掌上明珠，父母是当地政府公务员，家庭条件也不错，自认为退伍后回家找个工作应该还是比较容易的。因而，小姜入伍以来对啥也不在乎，好“顶顶撞撞”。

一个星期六的早晨，排长走到他的床前，说：“小姜，你和小王中午去帮一下厨。”小姜却连头都没抬，爱理不理地说：“我中午有事，不能去。”闹的排长满脸通红，一时不知所措。这是小姜第三次顶撞领导了。除此以外，他还经常不假外出，请了假也要超时；操课训练不认真，做错了也不觉羞愧。领导多次批评教育，效果不明显。为什么会这样呢？拿小姜自己的话来说：“我啥也不在乎，他们给一个处分我抱着，两个处分我挑着，能把我怎样？”

42. 根据以上材料，回答下列问题：

- (1) 导致小姜工作不积极，什么都不在乎的主要原因是什么？
- (2) 对这些什么也不在乎的战士，我们应该怎样管理？



微信公众号



扫码购买官方教材

第二部分 政治理论知识

一、单项选择题（每小题2分，共24分）

43. 2019年11月27日上午，全军院校长集训在国防大学开班。中共中央总书记、国家主席、中央军委主席习近平出席开班式并发表重要讲话。他强调，强军之道，要在得人。要全面贯彻新时代军事教育方针，全面实施_____战略，全面深化军事院校改革创新，把培养人才摆在更加突出的位置，培养德才兼备的高素质、专业化新型军事人才。
- A. 科技兴军 B. 改革强军 C. 人才强军 D. 政治建军
44. 2020年3月2日，中共中央总书记、国家主席、中央军委主席习近平在北京考察新冠肺炎防控科研攻关工作时强调，要把新冠肺炎防控科研攻关作为一项重大而紧迫任务。当前防控新冠肺炎疫情斗争有两条战线，一条是疫情防控第一线，另一条就是_____。
- A. 疫苗研究 B. 病毒溯源 C. 复工复产 D. 科研和物资生产
45. 中国共产党在大革命失败后，将工作重心由城市转向农村，标志着向农村进军的新起点是_____。
- A. 南昌起义的余部转入农村
B. 湘赣边界秋收起义后建立井冈山革命根据地
C. 中央革命根据地的建立
D. 鄂豫皖革命根据地的建立
46. 俗话说：“人闲百病生”。医学研究表明，适度的紧张有益健康激素的分泌，这种激素能增强身体的免疫力，抵御外界的不良刺激和疾病的侵袭。这说明_____。
- A. 世界上的一切事物都处在变化之中
B. 没有人脑就不可能有人类意识的产生
C. 意识对于人体生理活动具有调节控制作用
D. 物质是能够为人的意识所反映的客观实在
47. 阶级斗争是阶级社会发展的_____。
- A. 根本动力 B. 唯一动力 C. 辅助力量 D. 直接动力
48. 每当中华民族面临重大困难的时候，中华文化的力量就会突显出来。面对新冠肺炎疫情，中华民族“万众一心，众志成城”的精神最终赢得战“疫”胜利。这表明_____。
- A. 创新创造是文化的本质特征
B. 文化是推动历史前进的根本动力
C. 文化能够促进人的全面发展
D. 优秀文化能够增强人们的精神力量，是引领人们前进的旗帜
49. 党的十九届四中全会审议通过了《中共中央关于坚持和完善中国特色社会主义制度、推进_____现代化若干重大问题的决定》。
- A. 科学技术 B. 国家治理体系和治理能力
C. 社会组织管理 D. 国防和军队建设



50. 小夏使用信用卡在北京透支 8000 元购买了一台外国品牌笔记本电脑，在免息期内通过银行偿还了该消费款。在这一过程中，货币执行的职能是_____。
- A. 价值尺度、支付手段和世界货币 B. 流通手段、贮藏手段和支付手段
C. 价值尺度、流通手段和支付手段 D. 流通手段、价值尺度和世界货币
51. 从提倡高效务实的文风、会风到抵制“舌尖上的浪费”，从“苍蝇”“老虎”一起打到贯彻“三严三实”的要求，这表明了中国共产党_____。
- A. 加强作风建设，不断提高治理国家的能力
B. 完善执政方式，充分扩大公民的政治权利
C. 坚持群众观点，积极发挥群众的首创精神
D. 践行正确价值观，始终满足公民各项诉求
52. 党的十九大报告指出，推动形成全面开放新格局。要以_____建设为重点，坚持“引进来”和“走出去”并重，遵循共商共建共享原则，加强创新能力开放合作，形成陆海内外联动、东西双向互济的开放格局。
- A. “金砖机制” B. “一带一路” C. 自贸区 D. 区域合作
53. 战斗精神是军人在执行作战、训练及其他任务中表现出来的_____一种精神面貌和气质特征。我军战斗精神的核心是_____。
- A. 一不怕苦、二不怕死 B. 坚持党对军队绝对领导
C. 艰苦奋斗、牺牲奉献 D. 战略上藐视敌人、战术上重视敌人
54. 加快实施自由贸易区战略的意义主要在于_____。
- ①改变我国对外交往方式，解决南北发展不平衡问题
②统筹国内国际两种资源，开创高水平对外开放新局面
③引领经济全球化发展方向，提高肩负国际责任的能力
④推动我国与相关国家和地区互利共赢、共同发展
- A. ①③ B. ①④ C. ②③ D. ②④

二、简答题（每小题 8 分，共 16 分）

55. 简述中国特色社会主义法律体系的构成。
56. 如何加强新时代我军基层建设？

三、辨析题（先判断正误，再分析理由。每小题 6 分，共 24 分）

57. 香港、澳门特别行政区高度自治就是完全自治。
58. 先进的生产关系决定生产力的发展。
59. 有血性是坚持战斗力标准的内在要求。
60. 党的思想建设是党的根本性建设，决定党的建设方向和效果。

四、论述题（共 16 分）

61. 2019 年是中国人民解放军海军成立 70 周年，习主席指出，人类居住的这个蓝色星球，不是被海洋分割成了各个孤岛，而是被海洋连结成了命运共同体，各国人民安危与共。请结合实际论述，我国为什么要大力推动构建人类命运共同体？



微信公众号



扫码购买官方教材

二〇二〇年军队院校生长军(警)官招生文化科目统一考试

大专毕业生士兵专升本军政基础综合试题参考答案及评分标准

第一部分 军事知识

一、单项选择题(每小题2分,共80分)

- | | | | | |
|-------|-------|-------|-------|-------|
| 1. A | 2. A | 3. B | 4. A | 5. B |
| 6. B | 7. B | 8. D | 9. A | 10. B |
| 11. B | 12. A | 13. A | 14. B | 15. D |
| 16. A | 17. C | 18. A | 19. B | 20. A |
| 21. C | 22. B | 23. D | 24. B | 25. C |
| 26. A | 27. B | 28. B | 29. D | 30. A |
| 31. A | 32. A | 33. A | 34. D | 35. D |
| 36. B | 37. D | 38. B | 39. B | 40. D |

二、材料分析题(每小题20分,共40分)

41. 答题要点:

- (1) ①紧跟时代发展,贴近部队实际,紧盯官兵思想;
②使用时间短,所用场地小,内容更丰富,方法更灵活;
③体现“短、平、快”,突出“新、实、活”,注重“真、深、广”。
- (2) ①教育形式要灵活应变,与时俱进;
②教育内容要呼应时代需求,具有针对性;
③教育者要深入了解教育对象,找准教育切入点。

分值分配:每条3分,共18分;字迹工整,条理清楚:2分。

42. 答题要点:

- (1) ①小姜家庭条件优越,自我要求不高,缺乏上进心,思想认识存在偏差,从小娇生惯养;
②部队日常管理不到位,解决问题不及时;
③战士退伍后的个人利益与部队的表现没有挂钩。
- (2) ①找准原因,对症下药。针对小姜的思想问题,加强教育,使其树立正确的人生观、价值观;
②部队日常管理要严格,对小姜的管理工作要及时到位;
③部队要加强与地方有关部门的沟通联系,让其表现在地方安置、优抚等政策中得到体现。

分值分配:每条3分,共18分;字迹工整,条理清楚:2分。



微信公众号



扫码购买官方教材

第二部分 政治理论知识

评分说明:

- 一、单项选择题 略。
- 二、简答题 要求紧扣题意,观点正确,简明扼要。只要基本观点不遗漏,就可给分。否则,相应扣分。
- 三、辨析题 要求判断正确,分析紧扣题意。理由充分无误,就可给分。否则,相应扣分。
- 四、论述题 要求紧扣题意,从理论和实际的结合上说明问题。如果说理透彻,联系实际论述充分,并有新的见解,可从优给分,但不得超过本题满分。

答案要点:

一、单项选择题 (每小题2分,共24分)

- | | | | | |
|-------|-------|-------|-------|-------|
| 43. C | 44. D | 45. B | 46. C | 47. D |
| 48. D | 49. B | 50. C | 51. A | 52. B |
| 53. A | 54. D | | | |

二、简答题 (每小题8分,共16分)

55. (8分)

- (1) 中国特色社会主义法律体系是以我国全部现行法律规范按照一定的标准和原则划分为不同的法律部门,并由这些法律部门所构成的具有内在联系的统一整体。(4分)
- (2) 中国特色社会主义法律体系是以宪法为核心,以涵盖宪法及宪法相关法、民法商法、行政法、经济法、社会法、刑法、诉讼与非诉讼程序法等七个法律部门的法律为主干,由法律、行政法规、地方性法规等三个层次法律规范构成。(4分)

56. (8分)

- (1) 要锻造听党话、跟党走的过硬基层,确保党对军队绝对领导直达基层、直达官兵。(3分)
- (2) 要锻造能打仗、打胜仗的过硬基层,使基层真正做到召之即来、来之能战、战之必胜。(3分)
- (3) 要锻造法纪严、风气正的过硬基层,以严明的法治和纪律凝聚铁的意志、锤炼铁的作风、锻造铁的队伍,为推进强军事业提供坚实基础和支撑。(2分)

三、辨析题 (每小题6分,共24分)

57. (6分)

- (1) 这个观点是错误的。(2分)
- (2) 香港、澳门特别行政区的高度自治不是完全自治,中央对其高度自治权的行使具有监督的权力,绝不允许以“高度自治”为名对抗中央的权力。(2分) 香港、澳门特别行政区的高度自治权是中央授权的,中央对香港、澳门特别行政区拥有全面管治权。(1分) 推进“一国两制”实践,必须把维护中央对香港、澳门特别行政区全面管治权和保障特别行政区高度自治权有机结合起来,任何时候都不能偏废。(1分)



58. (6分)

(1) 这个观点是错误的。(2分)

(2) 生产力决定生产关系,生产关系对生产力具有能动的反作用。(2分)生产关系的反作用归根到底取决于和服务于生产力发展的客观要求,生产关系一定要适合生产力的发展状况。(2分)

59. (6分)

(1) 这个观点是错误的。(2分)

(2) 有血性就是要英勇顽强、不怕牺牲,是对新时代革命军人的精气神要求。(2分)

有本事就是要素质过硬、能打胜仗,是坚持战斗力标准的内在要求。(2分)

60. (6分)

(1) 这个观点是错误的。(2分)

(2) 党的政治建设是党的根本性建设,决定着党的建设方向和效果。(2分)只有加强党的政治建设,才能统一全党意志,为实现党的目标和纲领而共同奋斗。(1分)党的思想建设、组织建设、作风建设、纪律建设最终必须落实到政治建设上,政治建设抓好了,对党的其他建设可以起到纲举目张的作用。(3分)

四、论述题 (共16分)

61. (16分)

和平、发展、合作、共赢成为时代潮流。当今世界充满希望,也充满挑战。各国相互联系和依存日益加深,形成了你中有我、我中有你的命运共同体。没有哪个国家能够独自应对人类面对的各种挑战,也没有哪个国家能够退回到自我封闭的孤岛。世界各国需要以负责任的精神同舟共济,共同维护和促进世界和平与发展。(6分)

世界依然面临诸多难题和挑战。当今世界,国际金融危机影响深远,地区热点此起彼伏,局部动荡此起彼伏,霸权主义、强权政治和新干涉主义有所上升,网络安全、恐怖主义等非传统安全和全球挑战不断增多。国际社会迫切需要新的全球治理理念,构建新的公正合理的国际体系和秩序,开辟人类美好的发展前景。(5分)

中国是维护世界和平与发展的重要力量。随着我国综合国力不断增强,中国的治理理念和实践受到高度赞赏和广泛认同。中国有信心有能力为世界的和平与发展做出更大贡献。中国将高举和平、发展、合作、共赢的旗帜,与世界各国友好合作,共同推动建设相互尊重、公平正义、合作共赢的新型国际关系,构建人类命运共同体。(5分)



二〇二〇年军队院校生长军(警)官招生文化科目统一考试
 大专毕业生士兵专升本科学知识综合试题

考生须知	1. 本试卷分高等数学、物理、化学、历史、地理五部分, 考试时间150分钟, 满分为150分(高等数学50分, 物理25分, 化学25分, 历史25分, 地理25分)。 2. 将部别、姓名、考生号分别填涂在试卷及答题卡上。 3. 所有答案均须填涂在答题卡上, 填涂在试卷上的答案一律无效。 4. 考试结束后, 试卷及答题卡全部上交并分别封存。
------	--

第一部分 高等数学

一、单项选择题(每小题3分, 共15分)

1. 函数 $f(x) = \frac{\arcsin(\ln x)}{\sqrt{2-x}}$ 的定义域为_____。

- A. $0 < x < 2$ B. $e^{-1} \leq x < 2$ C. $e^{-1} \leq x < e$ D. $2 < x \leq e$

2. $\lim_{x \rightarrow 0} \frac{1 - \cos 2x}{\sin^2 3x} =$ _____。

- A. $\frac{2}{9}$ B. $\frac{9}{2}$ C. $\frac{2}{3}$ D. $\frac{3}{2}$

3. 若 $x \rightarrow 0$ 时, $(1 - ax^2)^{\frac{1}{4}} - 1$ 与 $x \sin x$ 是等价无穷小, 则 $a =$ _____。

- A. 2 B. -2 C. -4 D. 4

4. 设函数 $f(x) = \begin{cases} x^3, & x \leq 1, \\ 2x^2, & x > 1, \end{cases}$ 则 $f(x)$ 在 $x=1$ 处的_____。

- A. 左、右导数都存在 B. 左导数存在, 但右导数不存在
 C. 左导数不存在, 但右导数存在 D. 左、右导数都不存在

5. 设函数 $f(x)$ 在 $(-\infty, +\infty)$ 内可导, 且满足关系式 $xf(x) = \frac{3}{2}x^4 - 3x^2 + 4 + \int_2^x f(t) dt$,

则 $f(x) =$ _____。

- A. $2x^3 + 6x$ B. $2x^3 + 6x + 4$ C. $2x^3 - 6x$ D. $2x^3 - 6x + 4$



微信公众号



扫码购买官方教材

二、填空题 (每空题3分, 共15分)

6. 设函数 $f(x) = e^{-\frac{1}{x}}$, 则 $\lim_{h \rightarrow 0} \frac{f(1+h) - f(1)}{h} =$ _____.

7. 设 $\int f(x) dx = xe^x + C$ (C 为常数), 则 $f(x) =$ _____.

8. 微分方程 $\frac{dx}{y} + \frac{dy}{x} = 0$, 满足 $y(3) = 4$ 的特解是 _____.

9. 设函数 $y = \ln(1 + 4x^2)$, 则 $dy|_{x=1} =$ _____.

10. 设函数 $f(x) = |x(1-x)|$, 则曲线 $y = f(x)$ 除 $(1, 0)$ 之外的另一个拐点是 _____.

三、计算题 (每小题6分, 共12分)

11. 已知参数方程 $\begin{cases} x = a(1 - \sin t), \\ y = a(1 - \cos t) \end{cases}$ (t 为参数), 求 $\frac{d^2y}{dx^2}$.

12. 求由曲线 $y = x^2 - 2x - 3$ 和直线 $x = -2$ 及 x 轴所围封闭图形的面积.

四、证明题 (本题8分)

13. 设函数 $f(x)$ 在 $[a, b]$ 上连续, 在 (a, b) 内二阶可导, 且过 $(a, f(a))$ 和 $(b, f(b))$ 的直线与曲线 $y = f(x)$ 交于 $(c, f(c))$ ($a < c < b$), 证明:

(1) 存在不同两点 $\xi_1, \xi_2 \in (a, b)$, 使得 $f'(\xi_1) = f'(\xi_2)$;

(2) 存在点 $\xi \in (a, b)$, 使得 $f''(\xi) = 0$.



微信公众号

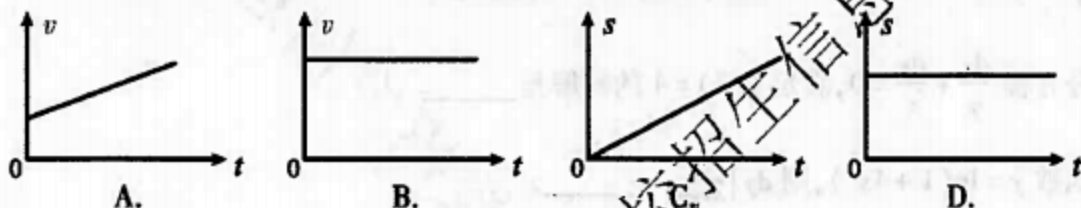


扫码购买官方教材

第二部分 物 理

一、单项选择题 (每小题2分,共10分)

14. 下列运动图像中表示质点做匀加速直线运动的是_____。



15. 两个大小分别为 F_1 和 F_2 ($F_2 < F_1$) 的力作用在同一质点上, 它们的合力大小 F 满足_____。

A. $F_2 \leq F \leq F_1$

B. $F_1^2 - F_2^2 \leq F^2 \leq F_1^2 + F_2^2$

C. $F_1 - F_2 \leq F \leq F_1 + F_2$

D. $\frac{F_1 - F_2}{2} \leq F \leq \frac{F_1 + F_2}{2}$

16. 图1为某一皮带传动装置示意图。主动轮 M 的半径为 r_1 , 从动轮 N 的半径为 r_2 。已知主动轮 M 做顺时针转动, 转速为 n 。转动过程中皮带不打滑且长度不变。下列说法正确的是_____。

A. 从动轮 N 做顺时针转动, 转速为 $\frac{r_2}{r_1}n$

B. 从动轮 N 做逆时针转动, 转速为 $\frac{r_2}{r_1}n$

C. 从动轮 N 做顺时针转动, 转速为 $\frac{r_1}{r_2}n$

D. 从动轮 N 做逆时针转动, 转速为 $\frac{r_1}{r_2}n$




图1

17. 如图2所示的匀强电场 E 的区域内, 由 A 、 B 、 C 、 D 、 A' 、 B' 、 C' 、 D' 为顶点构成一正方体空间, 电场方向与平面 $ABCD$ 垂直。下列说法正确的是_____。

A. A 、 D 两点间电势差 U_{AD} 与 A 、 A' 两点间电势差相等

B. 带电粒子沿对角线 AC' 从 A 点移到 C' 点与沿路径 $A \rightarrow B \rightarrow B' \rightarrow C'$ 从 A 点移到 C' 点, 电场力做功相等

C. 带负电的粒子从 A 点沿路径 $A \rightarrow D \rightarrow D'$ 移到 D' 点, 电场力做正功

D. 带正电的粒子从 A 点沿路径 $A \rightarrow D \rightarrow D'$ 移到 D' 点, 电势能增加

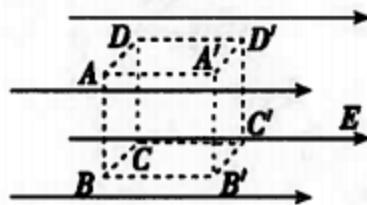


图2



微信公众号



扫码购买官方教材

18. 如图3所示,理想变压器原、副线圈匝数之比 $n_1:n_2=2:1$,电压表和电流表均为理想电表,灯泡电阻 $R_L=6\Omega$,AB端电压 $u_1=17.0\sin(100\pi t)\text{V}$,下列说法正确的是_____。

- A. 电流表的读数为1.0A
- B. 电流表的读数为1.4A
- C. 电压表的读数为8.5V
- D. 电压表的读数为24.0V

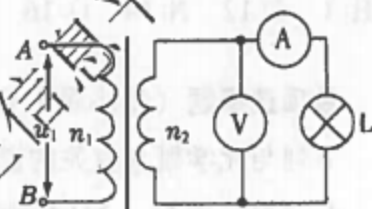


图3

二、填空题(每空3分,共15分)

19. 如图4所示,在倾角为 θ 的光滑斜面上有一质量为 m 的小球,小球被竖直的光滑挡板挡住并处于静止状态,则挡板对小球的压力大小为_____,斜面对小球的支持力大小为_____。(重力加速度大小为 g)

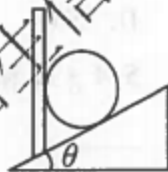


图4

20. 一台发电机用1A电流向外输电,在60s内将720J的机械能转化为电能,则发电机的电动势为_____V。

21. 一导体球壳带电量为 Q ,其空腔内无电荷。当其达到静电平衡时,电荷 Q 分布在导体球壳的_____ (选填“内表面”、“外表面”或“导体内部”),此时导体内部的电场强度大小为_____V/m。



微信公众号



扫码购买官方教材

第四部分 历史

一、单项选择题（每小题2分，共10分）

32. 近代历史上，两次鸦片战争发生的时间是_____。
- A. 1840年、1856年
B. 1840年、1883年
C. 1860年、1894年
D. 1860年、1900年
33. 中华民国建立后，孙中山把政府官员称作“人民之公仆”，民众心理随之变化，他们觉得自己成了国家的主人，有权对国家的事情发表自己的意见，社会舆论空前活跃。这主要是因为辛亥革命_____。
- A. 改变了中国的社会性质
B. 宣传了民主共和的理念
C. 完成了反封建的革命任务
D. 完成了民主革命的任务
34. 1956年毛泽东作了《论十大关系》的重要讲话。论述了重工业和轻工业、农业的关系，沿海工业和内地工业的关系，经济建设和国防建设的关系，国家、生产单位和生产者个人的关系，中央和地方的关系等十大关系。这_____。
- A. 标志着党在过渡时期的总路线的形成
B. 指出了当时中国社会主要矛盾的变化
C. 确立了社会主义工业化的总路线
D. 有利于调动各种积极因素进行经济建设
35. 1938年初，中国共产党创建了晋察冀抗日根据地。下列表述正确的是，它_____。
- A. 是八路军正面战场的战区之一
B. 壮大了新四军的力量
C. 是抗战时期中共中央所在地
D. 是敌后战场的组成部分
36. 在社会主义改造中，党对资本主义工商业采取的政策是_____。
- A. 保护发展
B. 和平赎买
C. 无偿没收
D. 适当限制

二、填空题（每空3分，共15分）

37. _____，促进了马克思主义在中国的传播，成为新民主主义革命的开端。
38. _____打响了武装反抗国民党反动派的第一枪，是中国共产党独立领导革命战争、创建人民军队和武装夺取政权的开端。
39. 从1953年开始的发展国民经济的第一个五年计划，把优先发展_____作为建设的中心环节，我国的工业化建设从此大规模地开展起来。
40. 1978年底，在中共中央工作会议上，邓小平发表讲话，着重阐述毛泽东实事求是的观点，号召大家解放思想，实事求是，团结一致向前看。这个讲话冲破“_____”的禁锢，为即将召开的中共十一届三中全会提出了基本的指导思想。
41. 党的十八大以来，中国特色社会主义进入了_____。



微信公众号



扫码购买官方教材

第五部分 地理

一、单项选择题 (每小题 2 分, 共 10 分)

42. 下列选项中, 由于地球公转而产生的现象是_____。
- A. 昼夜交替 B. 四季变化 C. 地方时 D. 地转偏向力
43. 在一幅地图中, 测得 A 点与 B 点的直线距离为 5.7 厘米, 但实际距离为 285 千米, 则该幅地图的比例尺为_____。
- A. 1:500 B. 1:1 624 500 C. 1:50 000 D. 1:5 000 000
44. 有关地图上等高线的说法正确的是_____。
- A. 等高线越稀疏, 表示地形越陡峭
- B. 等高线越稠密, 表示地形越平缓
- C. 表示山脊的等高线凸向低处
- D. 表示盆地的等高线为闭合曲线, 且内高外低
45. 下列不属于自然资源的是_____。
- A. 森林 B. 湖泊 C. 海洋 D. 电力
46. 位于我国地势第二级阶梯上的山脉是_____。
- A. 喜马拉雅山脉 B. 武夷山 C. 秦岭 D. 唐古拉山

二、填空题 (每空 3 分, 共 15 分)

47. 陆地地形可分为山地、丘陵、高原、平原和_____五类。
48. 根据我国各地的地理位置和自然条件存在的差异, 我国可分为东部季风区、西北干旱半干旱区和_____三大自然区。
49. 地球上的四大洋按面积大小依次排列为太平洋、_____、印度洋和北冰洋。
50. 我国的主要地质灾害有地震、_____和泥石流。
51. 自然地理环境是由地球表面上的大气圈、_____圈、水圈和生物圈共同组成。



微信公众号



扫码购买官方教材

二〇二〇年军队院校生长军(警)官招生文化科目统一考试

大专毕业生士兵专升本科学知识综合试题参考答案及评分标准

第一部分 高等数学试题参考答案及评分标准

一、单项选择题 (每小题3分,共15分)

1. B 2. A 3. C 4. B 5. D

二、填空题 (每空3分,共15分)

6. $2e^{-1}$ 7. $(x+1)e^x$ 8. $x^2+y^2=25$

9. $\frac{4}{25}$ 10. (0,0)

三、计算题 (每小题6分,共12分)

11. 解: 因为 $dx = -a \cos t dt$, $dy = a \sin t dt$, $\frac{dy}{dx} = \frac{a \sin t}{-a \cos t} = -\tan t$, ... (3分)

故 $\frac{d^2y}{dx^2} = \frac{d}{dx} \left(\frac{dy}{dx} \right) = \frac{d}{dx} (-\tan t) = -\sec^2 t \cdot \frac{dt}{dx} = -\sec^2 t \cdot \frac{1}{-a \cos t} = \frac{1}{a} \sec^3 t$ (6分)

12. 解: $y = x^2 - 2x - 3$ 与 $y = 0$ 的交点为 $(-1, 0)$, $(3, 0)$... (3分)

所求图形的面积为 $S = \int_{-1}^3 (x^2 - 2x - 3) dx = \left(\frac{1}{3}x^3 - x^2 - 3x \right) \Big|_{-1}^3 = \frac{7}{3}$... (6分)

四、证明题 (本题8分)

13. 证明:

(1) 过点 $(a, f(a))$, $(b, f(b))$ 的直线方程为:

$$y - f(c) = \frac{f(b) - f(a)}{b - a} (x - c), \text{ 显然 } \frac{f(b) - f(a)}{b - a} = \frac{f(b) - f(c)}{b - c} = \frac{f(c) - f(a)}{c - a},$$

令 $F(x) = f(x) - f(c) - \frac{f(b) - f(a)}{b - a} (x - c)$... (3分)

易知: $F(a) = F(b) = F(c) = 0$... (4分)

又因为 $f(x)$ 在 (a, c) , (c, b) 内可导, 在 $[a, c]$, $[c, b]$ 上连续, 则 $F(x)$ 在 $[a, c]$, $[c, b]$ 上也连续, 在 (a, c) , (c, b) 内可导.

由罗尔定理知, 至少存在点 $\xi_1 \in (a, c)$, $\xi_2 \in (c, b)$, 使得 $F'(\xi_1) = F'(\xi_2) = 0$, 即 $f'(\xi_1) = f'(\xi_2)$ (6分)

(2) 由(1)知 $f'(\xi_1) = f'(\xi_2)$, 又 $f'(x)$ 在 (a, b) 内可导,

则 $f'(x)$ 在 $[\xi_1, \xi_2] \subset (a, b)$ 上连续, 由罗尔定理知.

至少存在一点 $\xi \in (a, b)$, 使得 $f''(\xi) = 0$ (8分)



第二部分 物理试题参考答案及评分标准

一、单项选择题(每小题2分,共10分)

14. A 15. C 16. D 17. B 18. A

二、填空题(每空3分,共15分)

19. $mg \tan \theta; \frac{mg}{\cos \theta}$

20. 12

21. 外表面;0

第三部分 化学试题参考答案及评分标准

评分注意事项:

1. 本答案供阅卷评分使用,考生若写出其它正确答案,可参照评分标准给分。
2. 化学专用名词中出现错别字、化学式有错误,应酌情扣分。

单项选择题(每小题2分,共10分)

22. D 23. C 24. C 25. B 26. A

二、填空题(每空3分,共15分)

27. 10^{-12} mol

28. $\text{Al} - 3\text{e}^- \rightleftharpoons \text{Al}^{3+}$ 或 $\text{Al} - 3\text{e}^- \rightleftharpoons \text{Al}^{3+}$

29. Fe^{2+}

30. 逆

31. ③ > ① > ② > ④



微信公众号



扫码购买官方教材

第四部分 历史试题参考答案及评分标准

一、单项选择题（每小题2分，共10分）

32. A 33. B 34. D 35. D 36. B

二、填空题（每空3分，共15分）

37. 五四运动

38. 南昌起义

39. 重工业

40. 两个凡是

41. 新时代

第五部分 地理试题参考答案及评分标准

一、单项选择题（每小题2分，共10分）

42. B 43. D 44. C 45. D 46. D

二、填空题（每空3分，共15分）

47. 盆地

48. 青藏高寒区

49. 大西洋

50. 滑坡

51. 岩石



微信公众号



扫码购买官方教材

二〇二〇年军队院校生长军(警)官招生文化科目统一考试

大专毕业生士兵专升本大学英语试题

- | | |
|------------------|--|
| 考
生
须
知 | 1. 本试卷共五大题, 考试时间 120 分钟, 满分 100 分。
2. 将部别、姓名、考生号分别填涂在试卷及答题卡上。
3. 所有答案均须填涂在答题卡上, 填涂在试卷上的答案一律无效。
4. 考试结束后, 试卷及答题卡全部上交并分别封存。 |
|------------------|--|

一、选择填空 (每小题 1 分, 共 15 分)

- The monitor suggested that we _____ for a picnic on Sunday.
A. went B. must go C. could go D. go
- I don't like _____ you speak to her.
A. the way B. the way in that C. the way which D. the way of which
- A cow produces only one _____ a year.
A. bunny B. calf C. piggy D. kitty
- The difficulty we now meet with is _____ we can persuade him to tell the truth.
A. why B. that C. what D. how
- All factors _____, they began to do something about the situation.
A. were taken into consideration B. took into consideration
C. having been taken into consideration D. having taken into consideration
- Mr Smith is looking for an experienced secretary who is _____ of organizing meetings.
A. able B. capable C. possible D. responsible
- You must get there within an hour. There should be no _____ in sending the information to him.
A. question B. problem C. quarrel D. delay
- By no means _____ once we start to do what we want in our life.
A. shall we give away B. we shall give away
C. shall we give up D. we shall give up
- Dr. Johnson, as well as his wife and children, _____ taking photos beside the lake ten minutes ago.
A. was seen B. were seen C. sees D. saw



微信公众号



扫码购买官方教材

10. Although war exists, I still believe it is possible for different ethnic groups to live together _____.
- A. in agreement B. in harmony C. in connection D. in comparison
11. The news is a terrible blow to her, but she will _____ the shock soon.
- A. get out B. get through C. get off D. get over
12. The technology is reported _____ many trials before it was put into the market.
- A. to be given B. to have given C. to give D. to have been given
13. It turned out that the hotel was so near. I _____ the taxi.
- A. needn't have taken B. mustn't have taken
C. should have taken D. shouldn't have taken
14. Among all Chinese traditional arts, Nancy likes _____ Beijing Opera the best because it is really _____ fun.
- A. /; a B. /; / C. the; a D. the; /
15. — Hello, this is Tina speaking. Is that Sam?
— Sorry, he isn't here at the moment. _____?
- A. Can I take a message B. What are you saying to Tina
C. May I speak to Sam D. Who's that speaking

二、阅读理解 (每小题 2 分, 共 40 分)

第一节

阅读下列短文, 从每题所给的 A、B、C 和 D 四个选项中, 选出最佳选项。

Passage 1

I had hidden the long black bag in the garage for the past two days. Tonight, in the dark, I would finally take it away. If everything went OK, it would be done by morning. But I had to be sure no one, not even my wife, saw me.

It was more difficult to get away from the party than I had expected. I said that the children were tired and needed to get into bed. It was partly true. But the main reason for leaving was that I wanted to complete my plan.

First I had to get the kids to sleep. That was never easy at any time and tonight it was even more difficult. The eldest one wanted to know why we left the party early. I told him 10:30 pm was not early. As usual, I read them a bedtime story, but I had to stop myself reading too quickly or they would learn my secret.

Silence finally came, and feeling like a thief in the night, I went out of the house and into the garage. Taking one end, I dragged the bag out from its hiding place and took it into the garden. I was worried that my neighbours might see me and call the police.

It was already eleven o'clock. By the light of the moon I started working, trying to make as little noise as possible. And that was not easy with a saw and a hammer.



微信公众号



扫码购买官方教材

After much effort, my work was finally completed. I looked down at my watch. It was exactly 4:00 am. Then I went inside to have a shower and get a few hours of sleep. It wouldn't be long now before the kids would rush into my room and wake me up to tell me about the new tree-house Father Christmas had brought them this year.

16. Why did the man feel nervous?
- A. He left the party too late.
B. He was afraid of the darkness.
C. He didn't know where the black bag was.
D. He was worried that others would discover his secret.
17. The underlined word "they" in Paragraph 3 refers to _____.
- A. thieves B. parents C. children D. neighbours
18. In what order did the man do the following?
- a. Read the kids a story. b. Had a shower.
c. Worked in the moonlight. d. Dragged the bag out from the garage.
e. Went to a party.
- A. e-d-a-b-c B. e-a-d-c-b C. a-b-e-d-c D. a-e-d-c-b
19. What did the man want to do after finishing his plan?
- A. Go to sleep. B. Wake up his children.
C. Open the bag. D. Call the police.
20. How would the children feel when they saw the man's work?
- A. Confused. B. Excited. C. Tired. D. Angry.

Passage 2

The two economists call their paper "Mental Retirement", and their argument aroused the interest of behavioral researchers. Data from the United States, England and 11 other European countries suggests that the earlier people retire, the more quickly their memories decline.

The implication, the economists and others say, is that there really seems to be something to the "use it or lose it" notion—if people want to preserve their memories and reasoning abilities, they may have to keep active.

"It's incredibly interesting and exciting," said Laura F. Carstensen, director of the Centre on Longevity at Stanford University. "It suggests that work actually provides an important component of the environment that keeps people functioning optimally (最佳地)."

While not everyone is convinced by the new analysis, published recently in *The Journal of Economic Perspectives*, a number of leading researchers say the study is, at least, evidence for a possibility that is widely believed but surprisingly difficult to demonstrate.

Researchers repeatedly find that retired people as a group tend to do less well on cognitive tests than people who are still working. But, they note, that could be because people whose memories and thinking skills are declining may be more likely to retire than people whose cognitive skills remain sharp.



微信公众号



扫码购买官方教材

And research has failed to support the premise (假定) that mastering things like memory exercises, crossword puzzles and games like Sudoku can carry over into real life, improving overall functioning.

“If you do crossword puzzles, you get better at crossword puzzles,” said Lisa Berkman, director of the Centre for Population and Development Studies at Harvard. “If you do Sudoku, you get better at Sudoku. You get better at one narrow task. But you don’t get better at cognitive behavior in life.”

The study was possible, explains one of its authors, Robert Willis, a professor of economics at the University of Michigan, because the National Institute on Aging began a large study in the United States nearly 20 years ago. Called the Health and Retirement Study, it surveys more than 22,000 Americans over age 50 every two years, and administers memory tests.

21. According to the data from America and some European countries, retired people _____.
- A. have aroused the interest of many psychologists
 - B. don't have a functioning mind any more
 - C. are more forgetful than they were at work
 - D. can have much better cognitive skills
22. In Laura L. Carstensen's opinion, what is the relationship between work and functions?
- A. Work has nothing to do with people's functions.
 - B. Work has a positive effect on people's functions.
 - C. People's functions decrease gradually after work.
 - D. People's functions have no influence on people's work.
23. Lisa Berkman claimed that Sudoku could _____.
- A. improve people's overall functioning greatly
 - B. make people get better at this narrow task
 - C. help develop people's cognitive skills
 - D. help people live much longer
24. What can we learn about the Health and Retirement Study?
- A. It has been carried out for about 20 years.
 - B. It surveys Americans under the age of 50.
 - C. It is led by Robert Willis from the National Institute on Aging.
 - D. It gets support from the University of Michigan.
25. According to the passage, what do we know about “Mental Retirement”?
- A. People are reluctant to retire at an early age.
 - B. People have to retire earlier than expected.
 - C. People's cognitive functions will decline even though they are still working.
 - D. People's memories and reasoning abilities decline if they are not working.



微信公众号



扫码购买官方教材

Passage 3

Throughout history, music has been spread among people of different cultures. In today's technologically advanced society, however, people spread music online, sometimes without an artist's permission. This can lead to many problems, and music companies are now cracking down on this practice. Sharing music online without permission is theft.

Sharing music online prevents record companies from making money from their efforts. They say that sharing music online has resulted in a huge drop in profits and sales over the past 10 years. People who find music for free online are not paying for CDs or every MP3 downloaded. To truly understand the influence of music piracy (盗版行为) on creators, one must understand how many people are involved in the recording process. For the sale of each album, profits must be shared among musicians, sound engineers, music producers, managers, advertisers, and the company selling the product. Many people believe sharing music only affects the recording artist, but the reality is that sharing hurts business for all companies involved.

There are many people who don't see the harm in sharing music online and even think they have the right to do it. One online blogger states that he originally paid for an entire CD and that he should be able to do with the material whatever he wants. While he may have legally paid for the music, he does not have the right to provide permission, which means people like the blogger are thieves.

Although we don't spread today's music the same way we did before, there's no doubt that people around the world love to share music. However, Internet piracy would prevent musicians from continuing producing albums for fear of theft. Therefore, if people want to continue listening to their favorite artists, they need to buy their music so that artists will make enough profit to continue their music careers.

26. The underlined phrase "cracking down on" in Paragraph 1 is closest in meaning to "_____".

- A. bringing up carefully
- B. speaking highly of
- C. dealing seriously with
- D. destroying completely

27. We can learn from the passage that _____.

- A. artists are taking actions to protect their right
- B. sharing music files online affects a lot of people
- C. online music sharing increases the sales of music CDs
- D. a person who bought a CD has the right to share it online with others

28. According to the passage, musicians would stop producing CDs because _____.

- A. they have run out of inspiration
- B. their company refused to provide enough money
- C. they are afraid their works would be copied illegally
- D. no one would like to listen to them



微信公众号



扫码购买官方教材

29. How is the passage organized?
- A. Topic—Argument—Explanation
 - B. Opinion—Discussion—Description
 - C. Main idea—Comparison—Supporting statements
 - D. Introduction—Supporting statements—Conclusion
30. Which of the following can be the best title for the passage?
- A. Music Piracy Is Theft
 - B. Sharing Music Is Right
 - C. What Is Music Piracy?
 - D. Music Piracy Is Good for Music Lovers

第二节

根据短文内容,从短文后的选项中选出能填入空白处的最佳选项。选项中的两项为多余选项。

What is critical thinking? To a certain degree, it's a matter of logic—of being able to spot weaknesses in other people's arguments and to avoid them in your own. It also includes related skills such as distinguishing fact from opinion and assessing the soundness of evidence.

In the broad sense, critical thinking is focused, organized thinking—the ability to see clearly the relationships among ideas. 31 The greatest thinkers, scientists, and inventors have often taken information that was readily available and put it together differently to produce new ideas. That, too, is critical thinking.

32 As the class goes on, for example, you will probably spend a good deal of time organizing your speeches. While this may seem like a purely mechanical exercise, it is closely connected with critical thinking. If the structure of your speech is loose and confused, chances are that your thinking is also disordered and confused. If, on the other hand, the structure is clear, there is a good chance your thinking is too. 33

What is true of organization is true of many aspects of public speaking. 34 As you work on expressing your ideas in clear, accurate language, you will improve your ability to think clearly and accurately. 35 As you learn to listen critically to speeches in class, you will be better able to assess the ideas of speakers in a variety of situations.

If you take full advantage of your speech class, you will be able to develop your skills as a critical thinker in many circumstances. This is one reason why public speaking has been regarded as a vital part of education since the days of ancient Greece.



微信公众号



扫码购买官方教材

- A. Organizing a speech is not just a matter of arranging the ideas you already have. Rather, it is an important part of shaping the ideas themselves.
- B. This may seem like a lot of time, but the rewards are well worth it. You will benefit from new ideas.
- C. It may also help you to know that there is no such thing as a perfect speech. So don't be afraid of making mistakes.
- D. It has often been said that there are few new ideas in the world, only reorganized ideas.
- E. If you are wondering what this has to do with your public speaking class, the answer is quite a lot.
- F. The skills you learn in your speech class can help you become a more effective thinker in a number of ways.
- G. As you study the role of evidence and reasoning in speech-making, you will see how they can be used in other forms of communication as well.

三、完形填空 (每小题 1 分, 共 15 分)

It was a sunny and enjoyable day. Everyone in the 36 station was waiting for the train to arrive. Among the crowd, there was a group of young friends.

It was a 37 station with a lot of people and some juice shops, coffee and tea stalls, newspaper shops, etc. The train was arriving and everyone prepared to 38 the train to their seats.

The group of friends made loud noise to 39 the train as it moved into the station. They ran to get their seats 40 anyone entered the train.

The empty seats were 41 and the train whistled to move. An old man with a young boy aged around 15 had their seats just next to the friends' group. The young boy was so 42 to see everything. He cheered, "Dad, the train is moving and the things are moving backward."

His father 43 and nodded his head.

As the train started moving fast, the young boy again screamed, "Dad, the 44 are green in color and run backward very fast." His father said, "Yes, dear," and smiled.

Just like a kid, he was watching everything with great 45.

A fruit seller passed, selling apples, bananas and oranges. The young boy asked his dad, "I want to eat 46." His father bought some for him. He said, "Oh, this apple looks a lot sweeter than it tastes. I love this color."

The group was watching all the 47 of this boy and asked the boy's father, "Is your son having any problem? Why is he behaving so 48?"

"His son is mad, I think," a friend from the group made fun of him and shouted.

The father of the young boy, with patience, 49 the friends' group, "My son was born 50. Only a few days ago he was operated. He is seeing different things in his life for the first time."

The young friends became very quiet.



微信公众号



扫码购买官方教材

- | | | | |
|-----------------------|----------------|---------------|-----------------|
| 36. A. railway | B. bus | C. police | D. television |
| 37. A. dark | B. silent | C. busy | D. lonely |
| 38. A. get off | B. get down | C. get out | D. get into |
| 39. A. break | B. welcome | C. push | D. leave |
| 40. A. after | B. until | C. before | D. as |
| 41. A. washed | B. moved | C. filled | D. carried |
| 42. A. surprised | B. afraid | C. sorry | D. proud |
| 43. A. shouted | B. smiled | C. cried | D. refused |
| 44. A. skies | B. trees | C. rivers | D. houses |
| 45. A. interest | B. doubt | C. courage | D. sadness |
| 46. A. apples | B. bananas | C. oranges | D. strawberries |
| 47. A. fruits | B. words | C. clothes | D. activities |
| 48. A. happily | B. differently | C. quietly | D. quickly |
| 49. A. quarreled with | B. waited for | C. replied to | D. pointed at |
| 50. A. normal | B. deaf | C. mad | D. blind |

四、翻译 (共 15 分)

51. 提到中国体育不能不说乒乓球。乒乓球为中国赢得了无数个世界冠军(championship), 给国人无穷的喜悦与自豪感。此外, 乒乓球一直是中国人最喜爱的运动之一。无论在学校、社区(residential areas), 还是公园、广场, 都可以看到人们挥拍的身影。上至花甲老人, 下至年幼孩童都可以挥上几拍, 这也是乒乓球被称为中国国球的另一原因。

五、写作 (共 15 分)

52. 今年新冠肺炎疫情期间, 全国大中小学纷纷借助互联网开展教学活动, 互联网作为一种新型教学平台发挥了重要作用。与此同时, 也有专家指出, 互联网作为学习平台存在一些难以克服的弊端。请以“My View on the Internet as a Learning Platform”为题, 写一篇短文。

要点: (1) 互联网上学习资源日益丰富。

(2) 互联网作为学习平台的利弊。

(3) 你的个人观点。

要求: (1) 结构完整, 观点明确。

(2) 词数不少于 120。



微信公众号



扫码购买官方教材

二〇二〇年军队院校生长军(警)官招生文化科目统一考试

大专毕业生士兵专升本大学英语试题参考答案及评分标准

一、选择填空 (每小题1分, 共15分)

- | | | | | |
|-------|-------|-------|-------|-------|
| 1. D | 2. A | 3. B | 4. D | 5. C |
| 6. B | 7. D | 8. C | 9. A | 10. B |
| 11. D | 12. D | 13. A | 14. B | 15. A |

二、阅读理解 (每小题2分, 共40分)

- | | | | | |
|-------|-------|-------|-------|-------|
| 16. D | 17. C | 18. B | 19. A | 20. B |
| 21. C | 22. B | 23. B | 24. A | 25. D |
| 26. C | 27. B | 28. C | 29. D | 30. A |
| 31. D | 32. E | 33. A | 34. F | 35. G |

三、完形填空 (每小题1分, 共15分)

- | | | | | |
|-------|-------|-------|-------|-------|
| 36. A | 37. C | 38. D | 39. B | 40. A |
| 41. C | 42. A | 43. B | 44. B | 45. A |
| 46. A | 47. D | 48. B | 49. C | 50. D |

四、翻译 (共15分)

51. When it comes to Chinese sports, we cannot avoid mentioning table tennis. This sport has helped China win countless world championships, bringing the Chinese people a lot of happiness and a sense of pride. In addition, table tennis has always been one of the favorite sports of the Chinese people. You will see table tennis players everywhere, no matter in schools, residential areas, parks or squares. Both old people and children are able to play it more or less. This is another reason why it is called the national ball of China.



五、写作 (共 15 分)

52. My View on the Internet as a Learning Platform

With the development of information technology, the Internet is playing an increasingly important role in our work and life, growing into a comprehensive tool for learning, communication and entertainment.

As a learning platform, the Internet has a number of advantages over traditional learning in the classroom. First, many resources on the Internet can be easily accessed and renewed promptly. Second, students can practice oral English skills by watching English movies, and improve reading skills by browsing English websites. Best of all, learning resources on the Internet are mostly free. Students can download what they need instead of paying for books.

However, if not wisely used, the Internet may negatively affect students' learning efficiency. The Internet is full of temptations, for instance, online games and social chatting, and college students may get distracted, wasting valuable time without accomplishing their original task.

In my opinion, the Internet has become an important part of our life. We should take full advantage of the Internet and control ourselves when using it.



二〇二〇年军队院校生长军(警)官招生文化科目统一考试

大专毕业生士兵专升本大学语文试题

考 生 须 知	1. 本试卷共七大题, 考试时间 150 分钟, 满分 150 分。 2. 将部别、姓名、考生号分别填涂在试卷及答题卡上。 3. 所有答案均须填涂在答题卡上, 填涂在试卷上的答案一律无效。 4. 考试结束后, 试卷及答题卡全部上交并分别封存。
------------------	--

一、单项选择 (每小题 2 分, 共 20 分)

- 对下列《诗经》中诗句所使用的艺术手法, 判断正确的是_____。
 - “蒹葭采采, 白露未已”运用的是“兴”的艺术手法, “氓之蚩蚩, 抱布贸丝”运用的是“赋”的艺术手法。
 - “蒹葭采采, 白露未已”运用的是“比”的艺术手法, “氓之蚩蚩, 抱布贸丝”运用的是“赋”的艺术手法。
 - “蒹葭采采, 白露未已”运用的是“兴”的艺术手法, “氓之蚩蚩, 抱布贸丝”运用的是“比”的艺术手法。
 - “蒹葭采采, 白露未已”运用的是“赋”的艺术手法, “氓之蚩蚩, 抱布贸丝”运用的是“比”的艺术手法。
- 下列作品、作者、时期搭配正确的是_____。
 - 《山居秋暝》——孟浩然——唐代
 - 《短歌行》——曹操——东汉
 - 《离骚》——屈原——春秋
 - 《发现》——艾青——现代
- 《秋水》中, 庄子用“夏虫不可以语于冰”作喻来说明_____。
 - 人的认识受先天素质限制
 - 人的认识受后天素质限制
 - 人的认识受空间限制
 - 人的认识受时间限制
- 括号中补充的部分, 正确的一项是_____。
 - 故名寤生, (郑武公) 遂恶之
 - (姜氏) 爱共叔段, 欲立之
 - 请京, 使 (颍考叔) 居之
 - 公赐之食, (共叔段) 食舍肉



微信公众号



扫码购买官方教材

5. 下列表述, 不正确的一项是_____。
- A. 成语“日薄西山, 气息奄奄”出自于《陈情表》。
- B. 《我爱这土地》中最核心的象征性意象是鸟。
- C. 在中国诗歌史上, 格律诗发源于两晋, 定型于南北朝, 兴盛于隋唐。
- D. 《门槛》中的“一座大楼”象征革命事业。
6. 与“吾从而师之”中的“师”字用法不相同的一项是_____。
- A. 广乃遂从百骑往驰三人
B. 吾妻之美我者
C. 故人不独亲其亲
D. 左右以君贱之也
7. 《论毅力》中, 作者以“为山”“平地”“掘井”为喻, 来说明成与败的道理, 所运用的是_____。
- A. 对比法
B. 演绎法
C. 类比法
D. 归纳法
8. “短兵相接”这个成语出自于_____。
- A. 《孟子》
B. 《国殇》
C. 《大同》
D. 《庄子》
9. 曲不同于诗、词的独特之处在于_____。
- A. 不押韵
B. 长短句交错
C. 用衬字
D. 合乐
10. 《风波》中“七斤”的主要性格是_____。
- A. 争强好胜
B. 愚昧落后
C. 豁达自信
D. 豪爽乐观

二、诗文名句填空 (每小题 1 分, 共 6 分)

11. _____, 誓死忽如归。(曹植《白马篇》)
12. _____, 却话巴山夜雨时。(李商隐《夜雨寄北》)
13. 祸患常积于忽微, _____。(欧阳修《五代史伶官传序》)
14. 楼船夜雪瓜洲渡, _____。(陆游《书愤》)
15. _____, 干戈寥落四周星。(文天祥《过零丁洋》)
16. _____, 然后能改。(孟子《生于忧患, 死于安乐》)

三、文言文阅读 (共 20 分)

【甲】

文帝之后六年, 匈奴大入边, 乃以宗正刘礼为将军, 军霸上; 祝兹侯徐厉为将军, 军棘门; 以河内守亚夫为将军, 军细柳, 以备胡。



微信公众号



扫码购买官方教材

上自劳军。至霸上及棘门军，直驰入，将以下骑送迎。已而之细柳军，军士吏被甲，锐兵刃，毅弓弩，持满。天子先驱至，不得入。先驱曰：“天子且至！”军门都尉曰：“将军令曰：‘军中闻将军令，不闻天子之诏。’”居无何，上至，又不得入。于是上乃使使持节诏将军：“吾欲入劳军。”亚夫乃传言开壁门。壁门士吏谓从属车骑曰：“将军约，军中不得驱驰。”于是天子乃按辔徐行。至营，将军亚夫持兵揖曰：“介冑之士不拜，请以军礼见。”天子为动，改容式车，使人称谢：“皇帝敬劳将军。”成礼而去。

既出军门，群臣皆惊。文帝曰：“嗟呼，此真将军矣！曩者霸上、棘门军，若儿戏耳，其将固可袭而虏也。至于亚夫，可得而犯邪？”称善者久之。

(节选自《史记·绛侯周勃世家》)

李牧者，赵之良将也。常居雁门，备匈奴。以便宜^①置吏，市租皆输入^②幕府^③，为士卒费。日击数牛飧^④士，习射骑，厚遇战士。为约曰：“匈奴即入盗^⑤，意入收保^⑥，有敢捕虏者斩。”匈奴每入，烽火起，辄入收保，不敢战。如是数岁，边士日得赏赐而不用，皆愿一战。于是乃具选车得千三百乘，选骑得万三千匹，百金之士^⑦五万人，教者十万人，悉勒习战。李牧多为奇阵，大破杀匈奴十余骑。其后十余岁，匈奴不敢近赵边城。

(节选自《史记·廉颇蔺相如列传》 有删改)

【注释】①便(biàn)宜：依照实际情况灵活掌握。

②幕府：即幕府。

③飧(xiāng)：用酒食招待。

④入盗：入侵。

⑤收保：收拢人马物资进入营堡。“保”通“堡”。

⑥让：责备。

⑦百金之士：能冲锋陷阵的勇士。

17. 解释加点字的意思。(每小题1分，共5分)

(1) 军细柳

(2) 乃使使持节诏将军

(3) 常居雁门，备匈奴

(4) 匈奴每入，烽火起，辄入收保，不敢战

(5) 于是乃具选车得千三百乘

18. 下列断句正确的一项是_____。(3分)

A. 李牧至如/故约匈奴/数岁无所得

B. 李牧至/如故约匈奴/数岁无所得

C. 李牧至/如故约/匈奴数岁无所得

D. 李牧至如故约/匈奴数岁/无所得



微信公众号



扫码购买官方教材

19. 将下列句子翻译成现代汉语。(每小题3分,共6分)

(1) 亚夫乃传言开壁门,壁门士吏谓从属车骑曰:“将军约,军中不得驱驰。”于是天子乃按辔徐行。

(2) 如是数岁,亦不亡失。然匈奴以李牧为怯,虽赵边兵亦以为吾将怯。

20. 从以上两段文字中看,李牧和周亚夫在治军方面有什么共同点?李牧又有什么特别之处?(6分)

四、诗歌阅读(共10分)

水龙吟·甲辰岁寿韩南涧尚书^①

辛弃疾

渡江天马南来,几人真是经纶手?长安父老,新亭风景,可怜依旧!夷甫^②诸人,神州沉陆,几曾回首!算平戎万里,功名本是,真儒事,公知否?

况有文章山斗,对桐阴、满庭清昼。当年堕地,而今试看,风云奔走。绿野风烟,平泉草木,东山歌酒。^③待他年,整顿乾坤事了,为先生寿。

【注释】^①宋孝宗淳熙八年,辛弃疾被弹劾,退隐于上饶,曾任吏部尚书的韩南涧致仕后亦侨寓此地,两人往来唱和频繁。

^②夷甫,即王衍,西晋宰相,专尚清谈,不论政事,终致亡国。

^③绿野、平泉,分别为唐名相裴度与李德裕所居住的别墅。东山,东晋谢安隐居之地。

21. 下列对这首词的分析鉴赏,有错误的一项是_____。(2分)

A. 这是一首别开生面的祝寿词。全词除下片有些祝寿味道的句子外,其余皆借题发挥,因忧伤国事而抒发感慨。

B. “桐阴”“清昼”写韩公家世显赫,“堕地”“奔走”写其仕途坎坷。

C. 本词结尾表达的情感与辛弃疾在《破阵子·为陈同甫赋壮词以寄之》结尾所抒之情明显不同。

D. “算平戎万里”至上片末,写词人认为抗金收复失地才是“真儒事”,既勉励友人又抒发自己的抱负。

22. 下列对这首词所使用的修辞手法,判断有误的是_____。(2分)

A. “渡江天马南来,几人真是经纶手”一句用了反问的修辞手法。

B. “长安父老,新亭风景,可怜依旧”一句用了拟人手法。

C. “夷甫诸人,神州沉陆,几曾回首”一句用了反问的修辞手法。

D. “况有文章山斗,对桐阴,满庭清昼”用韩愈的典故,称颂韩南涧是当代文坛上的泰山北斗。

23. 本词感情真挚感人,请结合全词分析词人的情感。(6分)



微信公众号



扫码购买官方教材

五、现代文阅读 (共 22 分)

24. 阅读下列文字, 回答问题 (7 分)

我看那边的月台栅栏外有几个卖东西的等着顾客。走到那边月台, 须穿过铁道, 须跳下去又爬上去。父亲是一个胖子, 走过去自然要费事些。……我看见他戴着黑布小帽, 穿着黑布大马褂, 深青布棉袍, 蹒跚地走到铁道边, 慢慢探身下去, 尚不大难。可是他穿过铁道, 要爬上那边月台, 就不容易了。他用两手攀着上面, 两脚再向上缩; 他肥胖的身子向左微倾, 显出努力的样子。这时我看见他的背影, 我的泪很快地流下来了。……我再向外看时, 他已抱了朱红的橘子望回走了。过铁道时, 他先将橘子散放在地上, 自己慢慢爬下, 再抱起橘子走。到这边时, 我赶紧去搀他。

(1) 作者主要选取了一个怎样独特的视角来刻画父亲形象? (2 分)

(2) 这段文字采用了哪两种人物描写方法? (2 分)

(3) 这段描写中, 什么地方用了侧面烘托手法? (3 分)

25. 阅读下列文字, 回答问题 (6 分)

学问锻炼天性, 而其本身又受经验底锻炼; 盖人底天赋有如野生的花草, 他们需要学问底修剪; 而学问底本身, 若不受经验底限制, 则其所指示的未免过于笼统。多诈的人藐视学问, 愚鲁的羡慕学问, 聪明的人运用学问; 因为学问底本身并不教人如何用它们, 这种运用之道乃是学问以外、学问以上的一种智能, 是由观察体会才能得到的。

(1) 这段文字是从哪两个方面来强调实践锻炼和运用学问的重要性的? (2 分)

(2) 这段文字运用了哪两种修辞手法? (2 分)

(3) 从这段文字看, 作者认为治学的目的是什么? (2 分)

26. 阅读文章, 回答问题 (9 分)

小铁锤

张中杰

“砰!”随着儿子猛关卧室门的骤响, 你的心一个震颤, 委屈的眼泪淌了下来。

打小把唯一的儿子当块宝玉呵护, 儿子却长了一身营养过剩的懒膘, 脾气暴躁。青春期的儿子, 始终与你如反贴门神——不对脸。有一次儿子跟你顶嘴被弟弟看到, 当舅舅的作势要将儿子往窗户外面扔, 儿子脸吓得乌青才噤声, 但次日好了伤疤忘了疼, 依然如故。你真的担心学习成绩平平、养的一身贼膘的儿子将来难有出息, 更别说是为你养老了。

“再不听话, 我送你去当兵!”你咬牙切齿。

“当兵就当兵!”儿子居然不屑一顾。

浇水过多的花根部更易腐烂而早夭, 放不开手的风筝注定飞不高。犹豫摇摆许久, 你终于狠下心, 送高中毕业的儿子去当了兵。



微信公众号



扫码购买官方教材

“十公里拉练咋能跑得动？两米高的障碍物咋能翻过去？”听说新兵蛋子拉练最苦，你常常眼睛盯着天花板，彻夜无眠。三个月后，新兵集训结束。儿子来信说，他被分配到了炊事班，当了伙头兵。还有，他训练时因为紧张，扔手榴弹意外脱手，班长扑在他身上，受了点儿轻微伤。你听得汗毛直竖。当个伙头兵，能有什么出息？手榴弹爆炸威力很大，儿子真的没受伤？你焦虑不安，更加忧郁了。

无尽的牵挂，促使你与丈夫坐了一天一夜的火车，去戈壁滩看望儿子。

寒冬腊月，北风刺骨。你站在儿子面前时，儿子正在炊事班轧煤饼，手上裂开一道道血口。儿子高大了，脸上泛着红润的光；明显黑了瘦了，但浑身肌肉更结实了。你抚摸着儿子粗糙的手，心里隐隐作痛，又一次泪光闪烁。临走时你再三叮嘱儿子，一定要想方设法换个岗位。

回到家，你辗转反侧，想起了那把小铁锤。

七岁时，你老家的邻居是一个虎背熊腰的壮年铁匠。胆小的你捂着耳朵躲在一边，只见壮汉左手拉着呼呼作响的风箱，右手握一把铁铲不断往蹿起的火苗上送煤块，红彤彤的杂铁块几欲烧成流质时，左手飞快地换了铁钳夹出来，右手早变戏法似的举起一把铁锤。有时他的儿子抡起大磅锤，与他的小锤形成黄金搭档。铿锵嘿呦，火钳左旋右转，铁锤上下翻飞，火花四溅。

敦厚的铁砧板上躺着黑乎乎的杂铁，忍受着大小锤的打击，不曾呻吟。丢进水盆中“嗤啦”一声响，杂铁块竟神奇地变成了一把锋利的镰刀，一柄锃光瓦亮的锄头。

你总是在想，杂铁被敲打时身上疼不疼，好似砸在自己心上。邻家壮汉看你打铁好奇，为你打了一柄小巧玲珑的铁锤儿，一斤多重，一拃多长。学习疲倦时，你喜欢用这把小锤砸小石子，锤面闪光，咚咚响亮。

后来，这柄锤伴随着你，以全乡第一名的成绩考入县城重点高中，又伴你考入大学，直到有了工作。结婚那天，你把小锤悄悄装进梳妆台的小抽屉里。

你细心地找来一个小盒子，把小铁锤装进去，当作包裹邮给儿子，里边附了你写的一首清代诗人郑燮的七绝《竹石》：“咬定青山不放松，立根原在破岩中。千磨万击还坚劲，任尔东西南北风。”

一个月后，儿子的信来了。他的字一个劲排列整齐，力透纸背。“千锤万凿出深山，烈火焚烧若等闲。粉身碎骨全不怕，要留清白在人间。”诗后，有一个明显的小锤印。你心里长出了一口气，拧紧的眉毛舒展开来。

军营锤炼三年回来，儿子一进门竟然给你和丈夫一个温暖的拥抱。儿子坐下来，一边削好苹果递到你手里，一边汇报自己的进步。原来，儿子利用业余时间，拼命看书学习。由于训练表现突出，入了党，还由于见义勇为被表彰，立了二等功；如今又提了干，做了军官。



微信公众号



扫码购买官方教材

“你是怎么做到的?”你喜不自胜,心里涌起好奇。“每天读书两个小时,坚持做好事。这样,天天有收获,有进步!”儿子自豪地说道。你惊喜地瞪大了眼睛。

儿子用从部队学到的厨艺,为你和丈夫做了一顿丰盛的晚餐。儿子给你和丈夫讲述部队里的故事。

你弟弟擦窗户玻璃,意外跌伤肋骨。儿子开车送舅舅去医院。舅舅让儿子坐车上等。可他还是规规矩矩地把车停到车位,非扶着舅舅走不可。拍片、查结果,楼上楼下地陪检,细心照料舅舅。

“我这个外甥变化真大!”弟弟高兴地给你打电话。

那个喜欢与你顶牛儿的青涩少年走远了,你有点儿怅然若失。但最后,你幸福地笑了。泪眼蒙眬中你忽然觉得,当初的选择,是一个美好的插曲,就像那把小铁锤,真的很美!

(选文有删改)

(1) 结合文义,解释文中画横线句子的含义。(2分)

浇水过多的花根部更易腐烂而早夭,放不开手的风筝注定飞不高。

(2) 简要分析文中插叙部分的作用。(3分)

(3) 比较分析“儿子”入伍前后的人物形象。(4分)

六、语言运用 (每小题3分,共12分)

27. 下列各句加点词语的使用,不正确的一项是_____。

A. 只要13亿多人民和衷共济,只要我们党永远同人民站在一起,大家撸起袖子加油干,我们就一定能够走好我们这一代人的“长征路”。

B. “南京大屠杀80周年祭”再次敲响警钟,它警示我们:保卫祖国,使之远离苦难和欺凌,我辈当仁不让。

C. 连续出现的对抗、示威活动,使美国陷入一片混乱之中,为避免发生类似夏洛茨维尔的暴力事件,波士顿警方严阵以待。

D. 来自四川的马小盼是一名在校生,刚满19岁的她怀揣梦想,弃笔从戎来到雪域高原,正值花季的她从此把豆蔻年华献给了祖国。

28. 下列各句中,没有语病的一句是_____。

A. 最近热播的革命历史题材影片,讲述的都是在敌我力量十分悬殊的情况下,革命战士们至死不渝,百折不挠,以血肉之躯进行生死鏖战、抗敌制胜的故事。

B. 反腐败斗争能否取得压倒性胜利,关键是找准问题的要害,把全面从严治党的思路举措搞得更加科学、更加严密、更加有效。

C. 我们敬畏传统文化,是因为传统文化是中国社会自然进化的产物,蕴藏着我们还未充分认知的合理性,而不仅仅是因为它的古老、稀有。

D. 目前,“一带一路”建设实现了良好的开局,我们要进一步发挥规划引领作用,确保国家规划确定的目标任务抓实抓好抓出成效。



微信公众号



扫码购买官方教材

29. 依次填入下面横线处的语句, 衔接最恰当的一组是_____。

我国已经进入老龄化社会, 65岁及以上的老年人已达1.5亿, _____。_____;
_____。_____。正因如此, 老年人跌倒控制干预是一项社会系统工程。

①愿不愿意向跌倒的老人伸出援手, 是道德问题

②按通常30%的发生率估算, 每年有4000多万老人会跌倒

③为了保障老人的生命健康, 二者都需要肯定的回答

④知不知道怎么对跌倒的老人正确施救, 则是技术问题

⑤见危不救, 可能导致老人伤残或死亡

⑥救助不当, 也可能帮了倒忙, 加重老人病情伤情, 甚至造成更加严重的后果

A. ②⑥①③④⑤

B. ②⑤⑥①④③

C. ⑤②⑥③①④

D. ⑤⑥②④③①

30. 对下面这段新闻报道的文字进行压缩。要求保留关键信息, 句子简洁流畅, 不超过70字。

2019世界机器人大会于2019年8月20日在北京开幕, 本届大会的主题为“智能新生态、开放新时代”。另外, 大会论坛邀请了300多位业界顶尖专家和企业领袖进行了一系列主旨报告和高峰会。大会同时还举办了世界机器人博览会和世界机器人大赛。世界机器人博览会展览面积达52000平方米, 由工业机器人、服务机器人、特种机器人、智能物流机器人四大展区组成, 180多家国内外知名企业及科研机构携最新技术成果、应用产品和解决方案亮相; 2019世界机器人大赛已在全球举办过多场选拔赛, 全年累计参赛人数超过4万人, 本次大赛冠军赛共有来自全球10多个国家和地区的1000余支队伍参赛。在大会开幕式上, 中华人民共和国工业和信息化部部长透露: 2018年中国工业机器人产量达14.8万台(套), 全球产量占比超过38%。而2019年, 我国机器人市场规模预计将达86.8亿美元, 市场需求潜力依然巨大。

七、写作(60分)

31. 《中央电视台2020元宵特别节目》的诗歌朗诵《相信》中有这样一段: “有人说, 这场战斗中国一定赢。我信, 因为我们这代人对胜利并不陌生: 1998年的抗洪、2003年的抗击非典、2008年的汶川救灾、2014年抗击非洲埃博拉。一次次抗争, 把我爱的人, 挺立在灾难面前; 一代代接力, 让爱我的人, 在复兴之路上薪火相传。相信自己走过的路, 因为这条路上, 写满了一行字——中华民族。”历史一再证明: 尽管饱经沧桑、历经磨难, 但在那一群逆行者的奋斗下, 中华民族终将赢得胜利。

请结合实际, 以“最美逆行者”为题, 写一篇不少于800字的文章, 文体不限, 诗歌除外。



微信公众号



扫码购买官方教材

二〇二〇年军队院校生长军(警)官招生文化科目统一考试
大专毕业生士兵专升本大学语文试题参考答案及评分标准

一、单项选择(每小题2分,共20分)

1. A 2. B 3. D 4. B 5. C 6. A 7. C 8. B 9. C 10. B

二、诗文名句填空(每小题1分,共6分)

11. 捐躯赴国难 12. 何当共剪西窗烛
13. 而智勇多困于所溺 14. 铁马秋风大散关
15. 辛苦遭逢起一经 16. 人恒过

三、文言文阅读(共20分)

17. (1) 军: 驻扎(“驻军”亦对) (2) 使: 派遣; 派
(3) 居: 驻守 (4) 辄: 就
(5) 具: 准备 (每小题1分, 满分5分)

18. C (3分)

19. (1) 周亚夫这才传令打开军营大门, 守卫营门的营兵对跟从皇帝的武官说: “将军规定, 军营中不准纵马奔驰。”于是皇帝就放松了缰绳, 让马慢慢行走。(3分)

(2) 像这样连续几年, 赵国也没有什么损失或伤亡的。然而匈奴认为李牧胆怯, 即使赵国守边的士兵也认为己方的将帅(或李牧)怯懦。(3分)

20. 共同点: ①治军严明(恪尽职守、令出如山等)(2分)

②坚持原则(刚正不阿、不取悦国君)(2分)

李牧独特之处: 在战略战术上以退为进、蓄势以待(厚待将士, 保持己方有生力量)(2分)

四、诗歌阅读(共10分)

21. B (“仕途坎坷”错。“堕地”是写韩南涧出生就不平凡; “奔走”指其壮年为国事奔走。)(2分)

22. B (2分)

23. ①对朝政腐败的斥责与不满。上片用“几人真是经纶手”, 写南宋以来朝廷中缺乏治理国家的人才, 以致偏安一隅; 又借西晋王衍的典故写朝中大臣不思恢复, 又不能任用真正有才能的人。

②对韩南涧冰学的赞颂。下片用“山斗”赞扬韩南涧的文采, 将其比作韩愈, 说他是当代文坛上的泰山北斗。

③与友人共勉的爱国情怀(对友人的美好祝愿)。用“真儒事”勉励友人, 希望他能担负起“平戎万里”的重任; “待他年”三句意在激励韩南涧与词人共同完成恢复中原的夙愿。

(每点2分, 其中概括情感1分, 分析1分, 满分6分)

五、现代文阅读(共22分)

24. (1) 背影。(2分)

(2) 肖像描写和行为(动作)描写。(2分)

(3) 写儿子望着父亲的背影流泪, 又“赶紧去搀他”, 用儿子被父亲感动来侧面烘托父亲爱子之情的深挚动人。(3分)



25. (1) 一是强调“学问锻炼天性，而其本身又受经验底锻炼”，二是强调学问运用之道“乃是学问以外、学问以上的一种智能，是由观察体会才能得到的”。(2分)
- (2) 排比和比喻。(2分)
- (3) 治学的目的是为了实践和运用。(2分)
26. (1) 过度的呵护不利于孩子成长，过多的管束会限制孩子的成长空间。(每点1分，意思对即可；满分2分)
- (2) ①借对打铁过程的描写，说明杂铁块只有经过不断锤炼锻打才能最终成器的道理。
- ②交代小铁锤的来历和它在“你”成长过程中的重要意义。
- ③为下文写“你”用小铁锤鼓励儿子及儿子之后的变化作铺垫。(每点1分，意思对即可；满分3分)
- (3) ①以前肥胖、慵懒，现在高大、结实，吃苦耐劳。
- ②原来性格叛逆，与父母对立，现在主动与父母沟通交流，孝顺谦和。
- ③之前任性、蛮横，现在明事理、守规矩，关爱他人。
- ④入伍前成绩平平、得过且过，现在主动学习，努力进取，表现突出，事业有成。(每点1分，意思对即可；满分4分)

六、语言运用 (每小题3分，共12分)

27. D (3分)
28. C (3分)
29. B (3分)
30. 2019世界机器人大会于8月20日在北京开幕，大会分论坛、机器人博览会和机器人大赛三部分。中国工业机器人产量全球占比超过38%，市场需求潜力巨大。(3分)

七、写作 (60分)

31. 评分标准

一等 (60~51分)	二等 (50~41分)	三等 (40~31分)	四等 (30分以下)
以55分为基准 上下浮动	以45分为基准 上下浮动	以35分为基准 上下浮动	30分以下
文体符合要求	文体基本符合要求	文体大体符合要求	文体不符合要求
紧扣题意	符合题意	基本符合题意	严重偏离题意
中心突出	中心明确	中心不够明确	中心不明确 或文不对题
内容充实	内容较充实	内容较单薄	内容空洞
结构严谨	结构完整	结构基本完整	结构混乱或残缺
语言流畅 有表现力	语言通顺达意	语言基本通顺	语病多

说明:

- (1) 以大专一般写作水平为衡量的依据。
- (2) 各项具体标准中，以“中心”“内容”“语言”为重点。
- (3) 扣分标准：
①字数不足但完篇者，先按相应等级评分，然后每少20字扣1分。未完篇者（内容、结构残缺），按四等评分，不再扣字数分。②每2个错别字扣1分，重复者不计。③每2个标点错误扣1分。④字迹潦草难辨，卷面脏乱，酌扣1~3分。

